

Федеральное государственное образовательное бюджетное учреждение
высшего образования

ФИНАНСОВЫЙ УНИВЕРСИТЕТ
ПРИ ПРАВИТЕЛЬСТВЕ РОССИЙСКОЙ ФЕДЕРАЦИИ

Лицей Финуниверситета

**Содержание комплексного теста
по предмету «История»**

Москва 2019

История

Тематика материалов

История России

1. Славянские племена в 8-9 веках
2. Призвание варягов (норманская и антинорманская теории)
3. Правление первых русских князей (от Рюрика до Святослава)
4. Крещение Руси и правление князя Владимира
5. Правление Ярослава Мудрого
6. Владимир Мономах
7. Феодальная раздробленность
8. Монголо- татарское нашествие
9. Возвышение Москвы
10. Куликовская битва
11. Феодальная война
12. Правление Ивана Третьего и Василия Третьего
13. Правление Ивана 4 (внутренняя и внешняя политика)
14. Смутное время
15. Правление первых Романовых
16. Петр Первый и создание Российской империи
17. Дворцовые перевороты
18. Просвещенный абсолютизм Екатерины Второй
19. Правление Павла Первого
20. Правление Александра I и реформы Сперанского
21. Внешняя политика Александра I
22. Отечественная война 1812 года и заграничные походы.
23. Либеральные и охранительные тенденции в правлении Александра I
24. Общественные движения при Александре I
25. Выступление декабристов
26. Реформаторские и консервативные тенденции при Николае I
27. Внешняя политика Николая I
28. Крымская война
29. Начало правления Александра II
30. Реформы 60-70-ых годов
31. Общественные движение при Александре II
32. Внешняя политика Александра II
33. Внутренняя политика Александра III
34. Общественное движение 80-90-ых годов
35. Внешняя политика Александра III

36. Внутренняя политика Николая II
37. Внешняя политика Николая II. Русско-японская война
38. Первая революция 1905-1907 годов
39. Политическое развитие страны 1907-1914 годы
40. Социально-экономические реформы Столыпина
41. Серебряный век русской культуры

Демонстрационный вариант заданий по истории

Время выполнения теста – 35 минут

Максимальный балл – 20

1. Расположите в хронологической последовательности исторические события. Запишите цифры, которыми обозначены исторические события, в правильной последовательности в таблицу.

1. Подписание Ясского мира между Россией и Османской империей
2. Смоленская война
3. Первый созыв Генеральных штатов во Франции

2. Установите соответствие между историческими личностями и их деятельностью: к каждой позиции первого столбца подберите соответствующую позицию второго столбца.

ИСТОРИЧЕСКИЕ ЛИЧНОСТИ

ДЕЯТЕЛЬНОСТЬ

А) Филипп (Колычев)

1) участие в опричнине

Б) Иван Фёдоров

2) игумен Соловецкого монастыря

В) Фёдор Басманов

3) митрополит московский,
венчавший Ивана IV на царство

Г) Алексей Адашев

4) участие в Избранной раде

5) книгопечатник

Запишите в таблицу выбранные цифры под соответствующими буквами.

А)	Б)	В)	Г)

3. Ниже приведён перечень терминов. Все они, за исключением одного, отражают процесс закрепощения крестьян в XV–XVII вв.

- 1) правило Юрьева дня; 2) Соборное уложение; 3) вольные хлебопашцы;
- 4) заповедные лета; 5) урочные лета; 6) барщина.

Найдите и запишите порядковый номер термина, относящегося к другому историческому периоду.

4. Запишите термин, о котором идёт речь. Ответ запишите большими буквами без пробелов.

Процесс изъятия государством церковных земель называется _____

5. Прочитайте отрывок из летописи.

«В год 6748. Пришёл <...> к Киеву с большой силой, с многим множеством воинов своих, и окружили они город, ...и был город в великой осаде.

...И нельзя было голоса слышать от скрипения телег его, от рёва множества верблюдов его, ржания стад коней его, и была вся земля Русская наполнена воинами.

Поставил ... [враг] пороки около города, у Ляшских ворот. Тут вплотную подступали заросшие лесом овраги. Пороки непрестанно били день и ночь и пробили стены. Вышли горожане на остатки стены, и было видно, как тут ломались копыя, разлетались в щепки щиты, стрелы помрачили свет. Горожане были побеждены, и Дмитр ранен, а ... [враги] взошли на стены и там засели. Но в тот же день и ночь горожане построили другие стены около церкви Пресвятой Богородицы. На другой день ... [враги] начали приступ, был большой бой между ними и защитниками. Люди укрылись в церкви, влезли на церковные своды вместе со своим добром, и от тяжести рухнули вместе с ними стены церковные. Так город был захвачен воинами. Дмитра вывели раненым и не убили его мужества его ради».

Используя отрывок и знания по истории, выберите в приведённом списке три верных суждения.

Запишите в таблицу цифры, под которыми они указаны.

- 1) Событие, о котором идёт речь в отрывке, произошло в 1240 г.
- 2) В отрывке упомянут город, первым из русских городов встретивший неприятеля, о столкновении с которым идёт речь в отрывке.
- 3) Захватчики, о которых идёт речь в отрывке, – печенеги.
- 4) В отрывке описаны сложности ведения обороны города, связанные с затянувшимся на несколько недель строительством нового защитного укрепления.

5) Военачальник, возглавлявший неприятельские войска в столкновении, о котором идёт речь в отрывке, руководил войском, захватившим Владимир-на-Клязьме.

6) Автор обращает внимание на проявление благородства со стороны захватчиков города по отношению к мужественному воеводе.

6. Прочтите отрывок из документа и укажите название платежа, о котором идёт речь.

«А христианом отказыватися из волости, из села в село, один срок в году, за неделю до Юрьева дни осеннего и неделю после Юрьева дни осеннего. <...> А который христианин поживёт за кем год, да и пойдёт прочь, и он платит четверть двора, а два года поживёт, да и пойдёт прочь, и он полдвора платит, а три года поживёт, а пойдёт прочь, и он платит три четверти двора, а четыре года поживёт, и он весь двор платит».

- 1) большая соха
- 2) десятина
- 3) пожилое
- 4) подушная подать

7. Укажите изображения марок (почтовых блоков), события которых произошли при представителях династии Романовых. В ответе запишите две цифры, которыми обозначены эти марки.





8. Какие суждения о представленном изображении являются верными? Выберите два суждения из пяти предложенных. Запишите в таблицу цифры, под которыми они указаны.

1) Согласно «Повести временных лет» над воротами города, которому посвящена монета, князем Олегом был прибит щит.

2) Город, в честь которого выпущена монета, впервые вошёл в состав Российского государства в XV в.

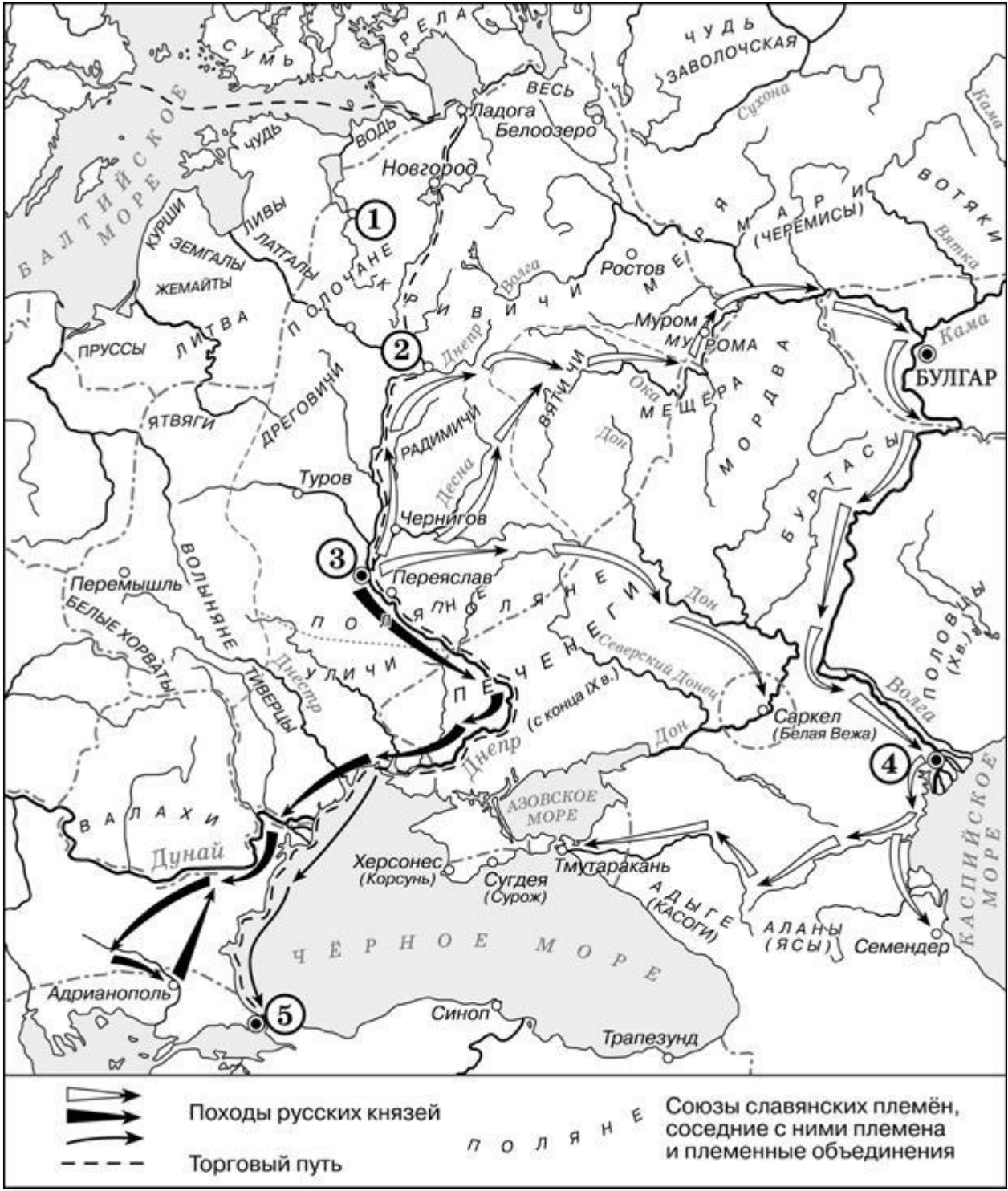
3) В городе, которому посвящена монета, принял крещение князь Владимир Святославич.

4) Монета выпущена в год, когда город, которому посвящена монета, находился в составе России.

5) В нижней части аверса (лицевая сторона) монеты представлено изображение берестяной грамоты.





9.1. Заполните пропуск в предложении: «Киевский князь _____ в начале X в. совершил успешный поход по маршруту, обозначенному на схеме тонкими чёрными стрелками \longrightarrow ». Ответ запишите большими буквами без пробелов



9.2. Укажите название государства, столица которого обозначена цифрой «5», в период отражённых на схеме событий. Ответ запишите большими буквами без пробелов.

9.3 Какие суждения, относящиеся к исторической ситуации, обозначенной на схеме, являются верными? Выберите три суждения из шести предложенных. Запишите в таблицу цифры, под которыми они указаны.

- 1) На схеме обозначен город, в котором согласно «Повести временных лет» было принято решение о приглашении варяжских князей.
- 2) Цифрой «2» на схеме обозначен город – центр восточнославянского племенного союза ильменских словен.
- 3) Походы, обозначенные на схеме широкими чёрными стрелками  и белыми стрелками , относятся к деятельности одного и того же киевского князя.
- 4) Цифрой «4» на схеме обозначена столица Волжской Булгарии.
- 5) Торговый путь, обозначенный на схеме, известен в истории как путь «из варяг в греки».
- 6) Киевский князь Игорь погиб во время восстания восточнославянского племенного союза, центр которого обозначен на схеме цифрой «3».

10. Прочитайте текст.

из челобитной царю

«Милосердый государь царь и великий князь Михайло Фёдорович всея Руси! Пожалуй нас, холопов своих, за прежнюю нашу службишку и за крови для нашей бедности и разоренья и для своих государьских служб беспрестанных вечным своим государьским жалованьем, как было при прежних государях, и твой государев указ: вели, государь, те урочные годы пять лет отставить, а крестьян беглых наших и людишек вели, государь, нам, холопам своим, отдавать по писцовым и по отдельным книгам, и по нашим крепостям, чтоб наши поместья и вотчины не запустели, и остальные б крестьяншики и людишки из-за нас, холопов твоих, не вышли, и чтоб мы, холопы твои, служба твою государеву беспрестанную службу и платя твои государевы всякие

подати, вконец не погибли. И вели, государь, на власти, и на монастыри, и на московских всяких чинов людей в наших беглых крестьянах и в людишках и в обидах давать нам, холопам своим, на них и на их прикащиков и на крестьян суд в тех городах, в кою, государь, пору нам, холопам твоим, приходится на них тебе государю бить челом. И вели, государь, выбрать в городах из дворян и из земских людей,

и вели, государь, нас, холопов своих, судить в городах по своему государеву указу и по своей государевой уложенной судебной книге, чтобы тебе, государю, от нас, холопов твоих, [надоедливых просьб] не было, а мы б, холопы твои, с московской волокиты вконец не погибли и от московских всяких чинов сильных людей и от монастырей, и от всяких властей в продаже не были, и чтоб нам, холопам твоим, от их продажи и насильства вконец не погибнуть...»

10.1 Укажите век/период, к которому относится данный документ. Ответ запишите цифрами или большими буквами без пробелов.

10.2. Укажите название документа, созданного его предшественниками. Ответ запишите большими буквами без пробелов.

10.3. Укажите царскую династию, родоначальником которой стал упоминаемый в документе правитель. Ответ запишите большими буквами без пробелов

10.4. Укажите преемника упоминаемого правителя. Ответ запишите большими буквами без пробелов

10.5. Укажите название свода законов, принятого в годы правления преемника царя, упоминаемого в документе. Ответ запишите большими буквами без пробелов.

10.6. В каком году будет принят данный свод законов? Ответ запишите цифрами без пробелов.

Ответы на задания демонстрационного варианта

Номер задания	Ответ
1	321
2	2514
3	3
4	СЕКУЛЯРИЗАЦИЯ
5	156

6	3
7	34
8	34
9.1	ОЛЕГ
9.2	ВИЗАНТИЯ
9.3	15
10.1	17
10.2	УРОЧНЫЕ ЛЕТА
10.3	РОМАНОВЫ
10.4	АЛЕКСЕЙ МИХАЙЛОВИЧ
10.5	СОБОРНОЕ УЛОЖЕНИЕ
10.6	1649

Шкала оценивания

Номер задания	Балл
1	1
2	2
3	1
4	2
5	2
6	1
7	1
8	1
9.1	1
9.2	1
9.3	1
10.1	1
10.2	1
10.3	1
10.4.	1
10.5	1
10.6	1