



ВАРИАНТ II

Задание 1. Самостоятельно определив основание, разделите указанные события на 2 группы. В каждой группе расположите события в хронологической последовательности, используя для этого номера, под которыми они представлены. В ответ выпишите в соответствующем порядке номера, под которыми указаны события.

1. Перенесение столицы Западной Римской империи из Рима в Равенну
2. Утрехтская уния
3. Спущен на воду первый атомный ледокол
4. Церковный собор, положивший начало расколу
5. Восстание под предводительством У.Тайлера
6. Начало изготовления бумаги
7. Открытие Антарктиды
8. Указ об основании Московского университета
9. Завершилось строительство здания Пулковской астрономической обсерватории
10. Возведение белокаменных стен Московского Кремля
11. Появление мультипликационного кинофильма с синхронизированным звуком (У.Дисней)
12. Варфоломеевская ночь
13. Принятие Петром 1 титула Императора Всероссийского
14. Объявление России республикой
15. Греческими поселенцами основан город Мариуполь
16. Открытие Австралии
17. Реформы Солона в Афинах
18. Вторжение Александра Македонского в Индию
19. Потсдамская конференция
20. Операция «Багратион»

Ответ:

Отечественная история – 10; 4; 13; 8; 15; 7; 9; 14; 20; 3


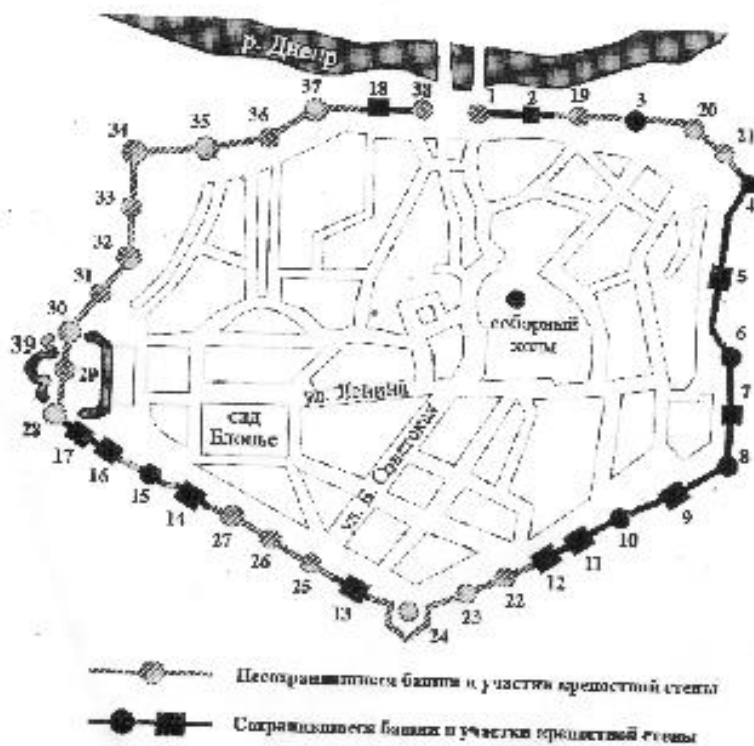
Зарубежная история – 17; 18; 6; 1; 5; 12; 2; 16; 11; 19

Критерии оценки:

1. За верное деление на 2 группы (1 - зарубежная история; 2 - отечественная история) - 2 балла.
 2. В случае допущения ошибки выставляется 0 баллов за все задание.
 3. Правильный порядок в 1 группе - 3 балла.
 4. Правильный порядок во 2 группе 3 балла.
 5. Допускается 1 ошибка в каждой группе, оценка снижается на 1 балл.
 6. Итоговая максимальная оценка - 8 баллов.
-

Задание 2. Выполните следующие действия:

- укажите в таблице название города, в котором расположена изображенная на плане крепость;
- выберите из предложенных изображений герб этого города и впишите в таблицу соответствующую цифру;
- из предложенного списка выберите имена тех, чья жизнь и деятельность связаны с этим городом и его окрестностями, впишите в таблицу буквы, под которыми они указаны.



1



2



3



4

- Андрей Боголюбский
- М.Б.Шеин
- П.С.Нахимов
- Салават Юлаев

- Г.А.Потёмкин
- А.Т.Твардовский
- Тамерлан (Тимур)
- М.И.Глинка

Ответ:

Название города	Номер герба	Персоналии
Смоленск	4	Б В Д Е З

Критерии оценки:

1. За верное определение города – 1 балл
 2. За верный выбор герба – 1 балл
 3. За каждый верный выбор персоналии 1 балл (всего – 5 баллов)
 4. Итоговая максимальная оценка – 7 баллов
-

Задание 3. Используя все приведенные слова и словосочетания, составьте определения исторических понятий. Запишите эти понятия. Слова и словосочетания не могут использоваться дважды. Вы можете добавлять предлоги, изменять слова по падежам.

- А) Лица, счёт, Русь, система, должностные, население, местное, содержание, за, на.
- Б) Производство, труд, предприятие, разделение, ручной, крупное, преимущественно, основанное, и, на.
- В) Век, земские, думы, выборные, собрания, вторая, девятнадцатый, депутаты, Россия, половина, городские, и, в, во.
- Г) Уходящий, заработки, на, деревни, крестьянин, работы, сезонные, на, из.

Ответ:

- А) Кормление
Б) Мануфактура
В) Гласные
Г) Отходник

Критерии оценки:

1. За каждое верное определение понятия 2 балла
 2. итоговая максимальная оценка – 8 баллов
-

Задание 4. Ответьте на вопросы, относящиеся к изображению.

1. Что изображено на мозаичном панно и когда произошло это событие?
2. Кто автор этого произведения?
3. Когда оно было создано?
4. Где размещено это произведение в настоящее время ?



Ответ:

1. Полтавская баталия. 1709 год.
2. Михаил Васильевич Ломоносов.
3. 1764 год.
4. здание Академии наук в Санкт-Петербурге.

Критерии оценки:

1. За каждый верный ответ на вопрос – 1 балл
2. Итоговая максимальная оценка – 4 балла

Задание 5. Запишите, как называется лицевая и оборотная стороны медали. Изучите изображения на медалях. Определите, когда и по какому поводу они были изготовлены. Прокомментируйте в 2-6 предложениях события, которым они посвящены.



А)



Б)

Ответ:

А) Аверс и реверс. Медаль «Небываемое бывает» была учреждена в 1703 году за первую в истории победу в морском сражении войск молодой Российской империи над шведами. Это сражение получило название «Бой в устье Невы». Итогом этого боя стало взятие крепости Ниеншанц. На аверсе - портрет царя и титул. На реверсе – сцена атаки шведских кораблей «Гедан» и «Астрильд» лодками с сидящими в них русскими гвардейцами. И офицеры, и солдаты Преображенского и Семёновского полков, участвовавшие в деле, были награждены этими медалями.

Б) Медаль за битву при Калише. На аверсе погрудный портрет Петра I, увенчанного лавровым венком и облаченного в доспехи. На реверсе изображение Петра в античном одеянии на фоне сражения, верхом на вздыбленном коне. Рука, проходящая через облака, венчает царя лавровым венком («увенчание славой»). Этой медалью награждались участники битвы при Калише 18 октября 1706 года.

Критерии оценки:

1. За верное указание названия лицевой и оборотной стороны медали - 1 балл
 2. За верное указание, когда изготовлена медаль – 1 балл
 3. За верное указание по какому поводу изготовлена медаль – 1 балл
 4. За комментарии к событиям, по поводу которых изготовлена медаль – 1 балл
 5. Итоговое максимальное количество баллов – 7 баллов
-

Задание 6. Вставьте пропущенные слова, словосочетания и даты.

Архангельск, Переяславль, Таганрог, Воронеж, Черкасск, Липецк, Дерпт, Рига, Либава, Петровск, Нижний Новгород, Новая Ладога, Киев, Харьков, Ревель, Петрозаводск... вот лишь часть местностей, которые в 1872 году «почтили заслуги Петра Великого». Разумеется, главные торжества в честь _____ **А** _____ -летнего юбилея Петра Алексеевича проходили в Санкт-Петербурге и в Москве. В первопрестольной соединили празднование 200-летия со дня рождения императора-преобразователя, императора-труженика, с учреждением и проведением грандиозного события – _____ **Б** _____ выставки. Ее организаторы не считали возможным лишь формально приурочить выставку к _____ **В** _____ юбилею – они видели и намеревались показать связь этих событий. Безусловно, трудно представить себе другого русского государя, которому так была бы близка идея прикладного естествознания и технических новшеств. Поэтому именно в _____ **Г** _____ выставке – московском «празднике непраздном», как говорил о нем русский историк _____ **Д** _____, лучше всего выразился дух петровского времени.

Выставка занимала три _____ **Е** _____ сада, плац внутри _____ **Ж** _____, _____ **З** _____ набережную, _____ **И** _____, на _____ **К** _____ площади выстроили народный театр, чайную и читальню.

Разные части праздника координировали различные же ведомства.

К московским торжествам можно отнести праздничные богослужения, встречу петровского ботика, торжественный акт празднования юбилея Петра в Московском университете, церемонию открытия Политехнической выставки, народный праздник на Ходынском поле, отбытие ботика обратно в Петербург. Важной частью торжеств, связанных с именем Петра, можно считать образовательную деятельность, развернутую в Москве. Прежде всего это лекции историка _____ **Л** _____ «Публичные чтения о Петре Великом». Ректор Московского университета, историк _____ **М** _____ выразил желание читать лекции _____ **Н** _____. Всего было прочитано 12 лекций.

Немаловажную роль в праздновании сыграла идея собрать галерею изображений Петра, что и реализовали в Историческом павильоне, центральная часть которого была посвящена исключительно фигуре Петра. Портреты привозили со всей России из дворцовых и _____ **О** _____ собраний.

С разрешения комитета выставки при входе на нее все желающие, заплатив в пользу Общества любителей Российской _____ **П** _____ полтора рубля, могли получить изданную этим обществом книгу «Государь Царь Петр Алексеевич, Царь Белый Петр Первый, первый Император по земле».

Особого внимания заслуживает выступление артистов в специально выстроенном на _____ **Р** _____ площади народном театре. Так были представлены _____ **С** _____, посвященные эпохе Петра, «Дедушка русского флота» и «Шкипер». Также в программе увеселение были скачки, механические театры, представления гимнастов, акробатов, фокусников, устроены разнообразные испытания ловкости и силы. Завершался праздник блистательным _____ **Т** _____.

Многие современники отмечали, что самой впечатляющей частью празднований стало прибытие в Москву «дедушки русского флота» - ботика Петра Великого «Св.Николай». Это связало место рождения императора с новой, основанной им _____ **У** _____ государства Российского. По окончании праздников ботик был торжественно препровожден обратно в _____ **Ф** _____.

Ответ:

Б. Политехнической
В. Петровскому
Г. Политехнической
Д. С.М.Соловьёв
Е. Александровских
Ж. Кремля
З. Кремлевскую
И. Манеж
К. Варварской

М. С.М.Соловьёв
Н. бесплатно
О. частных
П. словесности
Р. Варварской
С. пьесы
Т. фейерверком
У. столицей
Ф. Санкт-Петербург

Критерии оценки:

1. За каждый верно, заполненный пропуск – 0,5 балла
2. Итоговое максимальное количество баллов – 10

Задание 7. Соотнесите имена императоров и известные фразы из их манифестов и указов. Для этого внесите в таблицу буквы, соответствующие цифрам.

- 1.Петр 1
- 2.Павел 1
- 3.Александр 1
- 4.Александр 2
- 5.Александр 3
- 6.Николай 2

А. «Во имя горячо любимой родины призываем всех верных сынов Отечества к исполнению своего долга перед ним, повиновением Царю в тяжелую минуту всенародных испытаний и помочь Ему, вместе с представителями народа, вывести Государство Российское на путь победы, благоденствия и силы».

Б. «Мы уже воззвали к первопрестольному граду Нашему – Москве, а ныне взываем ко всем Нашим верноподанным, ко всем сословиям и состояниям духовным и мирским, приглашая их вместе с Нами единодушным и общим восстанием содействовать против всех вражеских замыслов и покушений.»

В. «Посвящая себя великому нашему служению, мы призываем всех верных подданных наших служить нам и государству верой и правдой, к искоренению гнусной крамолы, позорящей землю русскую, - к утверждению веры и нравственности, - к доброму воспитанию детей...»

Г. «Закон божий в десятословии нам преподанный научает нас седмый день посвящать ему,..почитаем долгом нашим пред творцом и всех благ подателем подтвердить во всей империи нашей о точном и неременном его закона исполнении, повелевая всем и каждому наблюдать, дабы никто и ни под каким видом не дерзал в воскресные дни принуждать крестьян к работам...»

Д. «Впредь указую господам сенаторам речь в присутствии держать не по писаному, а толь своими словами, дабы дурь каждого видна была всякому».

Е. «Мы убедились, что дело изменения положения крепостных людей на лучшее есть для Нас завещание предшественников наших и жребий, чрез течение событий поданный нам рукою провидения.»

Ответ:

1	2	3	4	5	6
Д	Г	Б	Е	В	А

Критерии оценки:

1. За каждую верно, составленную пару – 2 балла
2. Итоговое максимальное количество баллов – 12 баллов

Задание 8. Выполните следующие действия:

А) Укажите дату события, изображенного на карте и на картине.

Б) Из указанного ниже списка выберите фамилии участников этого события и выпишите их.



- 1) М. Скобелев
- 2) К. Крючков
- 3) А. Ермолов
- 4) Л. Корнилов
- 5) Н.И.Святополк-Мирский

Ответ:

А) июль 1877 года.

Б) М. Скобелев, Святополк Мирский

Критерии оценки:

1. За верно указанную дату – 1 балл
2. За каждую верно выбранную фамилию – 1 балл (всего – 2)
3. Итоговое максимальное количество баллов – 3

Задание 9. Выполните следующие действия:

А. укажите кто автор этих строк.

Б. запишите кому они посвящены.

«Могучий муж! Желал ты блага,
Ты мысль великую питал;
В тебе и сила, и отвага,
И дух высокий обитал;
Но, истребляя зло в отчизне,
Ты всю отчизну оскорбил;
Гоня пороки русской жизни,
Ты жизнь безжалостно давил.»

Ответ:

А) К.Аксаков

Б) о Петре Великом

Критерии оценки:

1. За верное указание автора – 1 балл

2. За верное определение того, кому посвящено приведенное высказывание – 1 балл

3. Итоговое максимальное количество баллов – 2 балла

Задание 10. Внимательно изучите изображение. Закончите фразы.

Ответы на первые три вопроса обязательны.

1. Автор портрета – Таир Салахов.
2. Произведение экспонируется в Государственной Третьяковской галерее.
3. На полотне изображён Дмитрий Шостакович.
4. В первые месяцы Великой Отечественной войны изображённый на портрете находился в Ленинграде и служил в добровольной пожарной дружине (тушил зажигательные бомбы на крышах). При этом он работал профессором в Ленинградской консерватории.
5. В это же время он создал одно из самых известных произведений. Работу над ним он завершил в эвакуации в конце декабря 1941 года. Это произведение – 7-я симфония (Ленинградская).
6. Анна Ахматова подарила изображённому на портрете книгу с посвящением: «... в чью эпоху я живу на Земле».



Критерии оценки:

1. За каждое верно законченное высказывание – 1 балл.
 2. Три первые пункта являются обязательными. В случае пропуска одного из них или неправильного ответа выставляется – 0 баллов
 3. Итоговое максимальное количество баллов – 6
-

Задание 11. Укажите, в какие годы приведённые изображения являлись гербами СССР.



А)

Б)

Ответ: А) 1937-1946 Б) 1957-1991


Критерии оценки:

1. За каждый правильный ответ - 1 балл
 2. Итоговое максимальное количество баллов – 2
-

Задание 12. В таблицу в строку №1 внесите названия архитектурных сооружений. В строку №2 - имена архитекторов данных сооружений. В строке №3 отметьте знаком «+» то сооружение, на котором располагается мемориальная доска.

А)

Б)



В)

Г)

«+»



	А	Б	В	Г
1	Большой театр	Михайловский дворец (Русский музей)	Биржа на стрелке Васильевского острова	Исторический музей
2	О.Бове	К.И.Росси	Ж.Тома де Томон	В.И.Шервуд
3	+			

Критерии оценки:

1. За каждую верно заполненную клеточку в таблице – 1 балл
2. Итоговое максимальное количество баллов – 9

Задание 13. Фонтан «Дружба народов» - главный фонтан и один из основных символов ВДНХ.

А) Определите, до какого года было создано это уникальное сооружение, если количество скульптур, символизирующих республики нашей страны, - 16.

Б) Какую республику символизирует скульптура девушки?



Ответ:

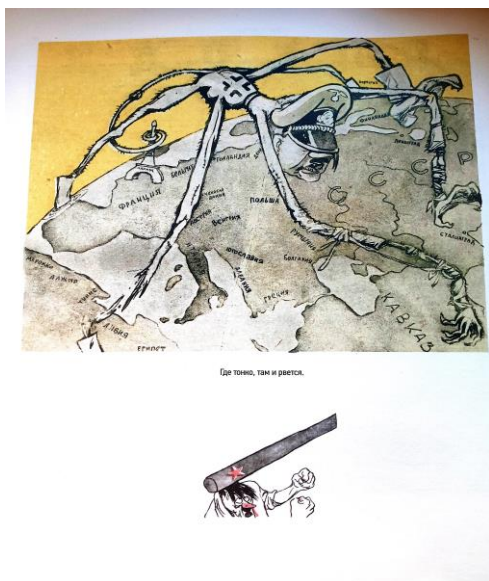
- А) До 1956 года
- Б) Белорусская ССР

Критерии оценки:

- 1. За правильный ответ на каждый вопрос - 2 балла
 - 2. Итоговое максимальное количество баллов – 4
-

Задание 14. Укажите:

- А) время публикации этого изображения в журнале «Крокодил» с точностью до года
- Б) событие, которое подтолкнуло авторов к созданию карикатуры



Ответ:

Рис.1

- А) Крокодил № 43, 1942 год.
- Б) Приостановлено наступление гитлеровских войск и начало битв за Кавказ и Сталинград

Рис.2

- А) Крокодил №9, 1944 год
- Б) Снятие блокады Ленинграда

Критерии оценки:

- 1. За каждый правильный ответ – 1 балл
 - 2. Итоговое максимальное количество баллов – 4
-

Задание 15. Выполните следующие действия:

- А) Укажите, где установлен памятник
- Б) Каким событиям он посвящен?
- В) Напишите историческое сочинение, освещающее эти события и объясняющее их значение в истории нашей Родины. Использование точных дат и имен собственных является обязательным



- А) В Магнитогорске. Памятник «Тыл - фронту»
- Б) Памятник увековечил трудовой подвиг тружеников тыла во время ВОВ.
- В)

Критерии оценки:

1. За правильное указание места установления памятника – 2 балла
2. За верное определение события, послужившего основанием для создания мемориального комплекса - 2 балла
3. За сочинение с указанием точных данных о событиях, персоналиях, итогах, значении их для истории Отечества - 10 баллов
4. Итоговое максимальное количество баллов - 14

ИТОГО за всю работу максимальный балл = 100